

ローマ字で
名前を
書きましょう。

$$\begin{array}{r} \textcircled{1} \quad 300 \\ \times \quad 58 \\ \hline \end{array}$$

$$\begin{array}{r} \textcircled{2} \quad 406 \\ \times \quad 5 \\ \hline \end{array}$$

$$\begin{array}{r} \textcircled{3} \quad 870 \\ \times \quad 27 \\ \hline \end{array}$$

$$\begin{array}{r} \textcircled{4} \quad 779 \\ \times \quad 21 \\ \hline \end{array}$$

$$\begin{array}{r} \textcircled{5} \quad 3.7 \\ + 5.8 \\ \hline \end{array}$$

$$\begin{array}{r} \textcircled{6} \quad 13.5 \\ + 6.5 \\ \hline \end{array}$$

$$\begin{array}{r} \textcircled{7} \quad 4.4 \\ - 2.9 \\ \hline \end{array}$$

$$\begin{array}{r} \textcircled{8} \quad 36 \\ - 7.3 \\ \hline \end{array}$$

⑨ $45 \text{ mm} = (\quad) \text{ cm}$

⑩ $400 \text{ mL} = (\quad) \text{ L}$

⑪ $600 \text{ dL} = (\quad) \text{ L}$

⑫ $15 \text{ t} = (\quad) \text{ kg}$

⑬ 午後1時43分から午後8時22分までの時間をもとめなさい。

(
)

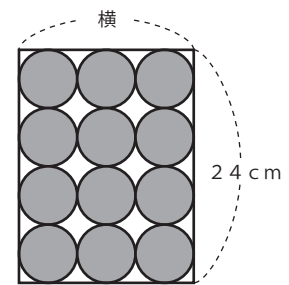
⑭ 右のように、箱に同じ大きさのボールがぴったり入っています。

(1) ボールの直径は何cmですか。

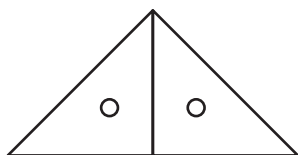
(
)

(2) この箱の横の長さは、何cmですか。

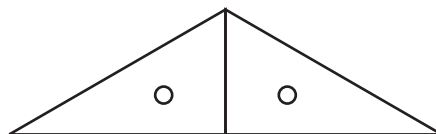
(
)



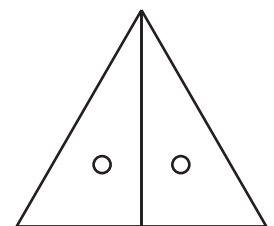
⑮ 下の図のように、三角じょうぎを2枚ならべると、それぞれ
なんという形になりますか。漢字で書きなさい。



(
)



(
)



(
)