

◎計算をしましょう。

小数第一位までだから小数第二位を四捨五入するよ

商は四捨五入して小数第一位まで求める

①

$$0.6 \overline{) 8.82}$$

②

$$0.8 \overline{) 6.94}$$

③

$$7.3 \overline{) 45.9}$$

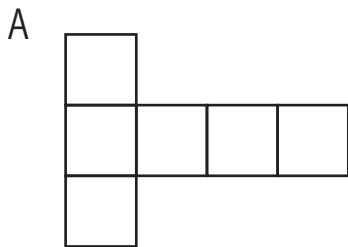
◎ 200gの塩があります。x g使いました。残りは y gです。

()

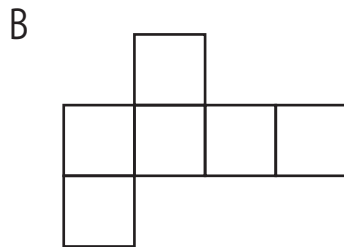
◎ x Lの牛乳を10日間飲みました。1日に平均 y L飲んだことになります。

()

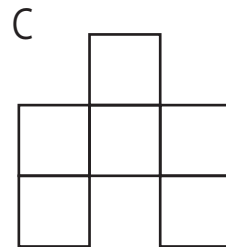
◎立方体の展開図で正しいものに○をつけましょう。



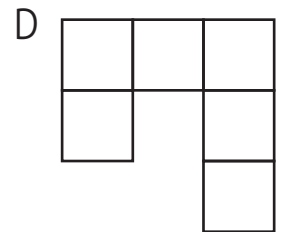
()



()

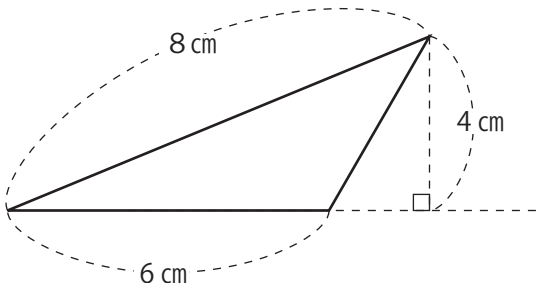


()



()

◎ 三角形



式)

答)

◎ 計算をしましょう。

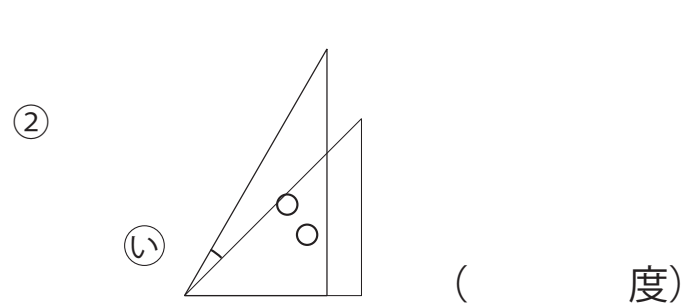
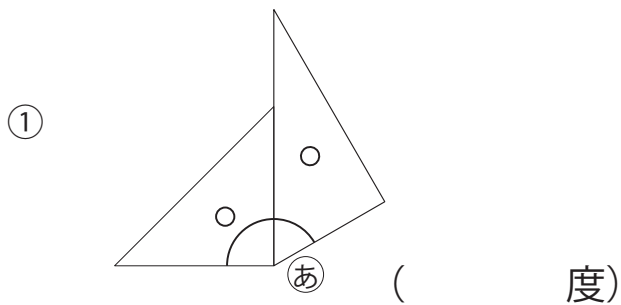
① $\frac{1}{10} + 0.3$

② $\frac{9}{4} - 0.2$

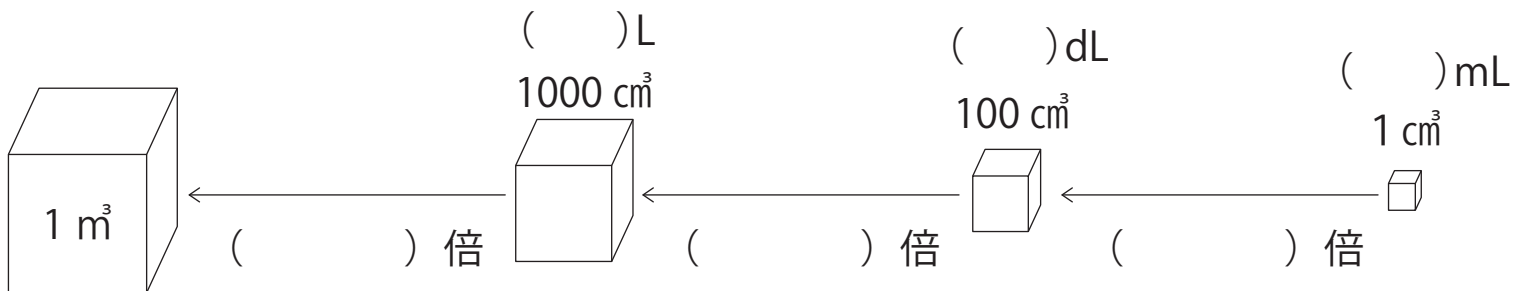
③ $\frac{12}{10} \times \frac{5}{18}$

④ $0.3 \div \frac{9}{5}$

◎ 次の角度を求めましょう。(それぞれの問題のふたつの三角形は、三角じょうぎです)



◎ () にあてはまる数字を書きましょう。



◎ クラスの40%がサッカー部で16人です。クラスの人気は何人ですか。
式)

答) _____

◎ $\frac{3}{4}$ lの重さが $\frac{4}{9}$ kgの米があります。この米1 lの重さは、何kgですか。
式)

答) _____